

Naam en Van: _____

Datum: _____

Wiskunde- Graad 4

Totaal :40

Vraag 1: Getalbegrip (8)

Beantwoord die volgende vrae.

1. Tel verder. (1)

1.1 1000; 2000, 4000, 7000

2. Vul die verwantskapsteken in <, > of =. $\frac{1}{2}$

2.1 1852 > 1582

3. Wat is die getalwaarde van die onderstreepte syfer. $\frac{1}{2}$

3.1 5487: 400

4. Gee die eerste drie veelvoude van 25. (3)

25; 50; 75

5. Rond die getal af tot die naaste 100. ($2 \times \frac{1}{2} = 1$)

2267 \approx 2300

6421 \approx 6400

6. $3330 + 70 = 3400$ (1)

7. Skryf 1563 in woorde. (1)

Een duisend vyf honderd drie en sestig.

Vraag 2: Getalbegrip (12)

Bereken:

1. Tel op: Gebruik die afbreek-metode. (3)

6585 + 2397

6000 + 500 + 80 + 5 + 2000 + 300 + 90 + 7

6000 + 2000 = 8000

500 + 300 = 800

80 + 90 = 170

5 + 7 = 12

=8982

2. Trek af: Gebruik die afbreek-metode. (3)

$$7869 - 4527$$

$$7000 + 800 + 60 + 9 - 4000 - 500 - 20 - 7$$

$$7000 - 4000 = 3000$$

$$800 - 500 = 300$$

$$60 - 20 = 40$$

$$9 - 7 = 2$$

$$= 3342$$

3. Vermenigvuldig: gebruik die afbreek-metode. (3)

$$5 \times 84$$

$$5 \times 4 = 20$$

$$5 \times 80 = 400$$

$$= 420$$

4. Deel: gebruik die afbreek-metode. (3)

$$92 \div 4$$

$$40 \div 4 = 10$$

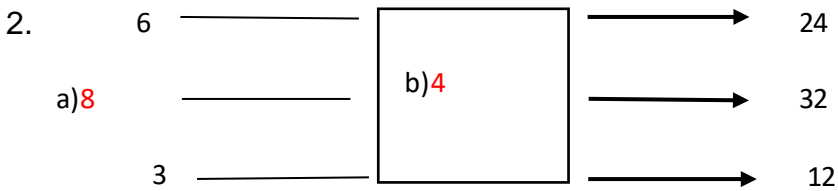
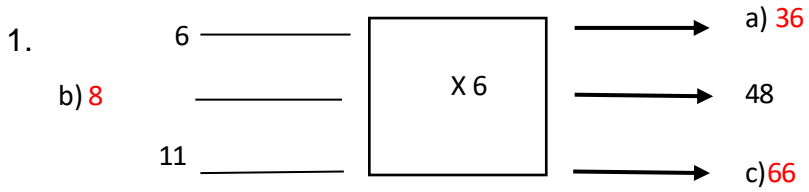
$$40 \div 4 = 10$$

$$12 \div 4 = 3$$

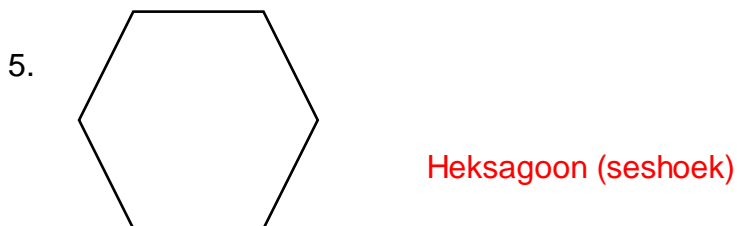
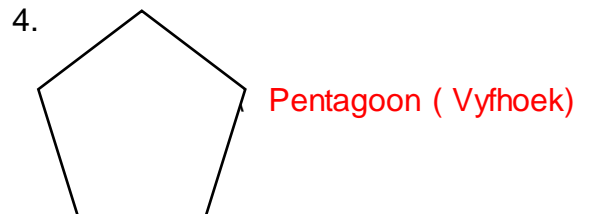
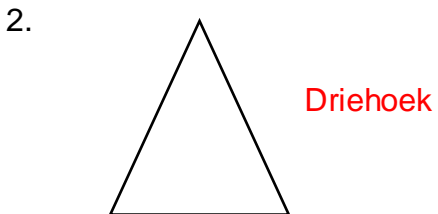

$$= 23$$

Vraag 3: Patrone

Voltooi die vloeiagram (5)



Vraag 4: Wat is die name van die volgende 2-D vorms (5)

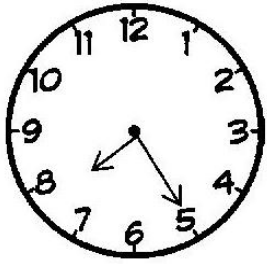


Vraag 5: Tyd (5)

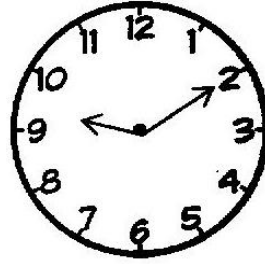
1. 1 week = 7 dae
2. $1\frac{1}{2}$ uur = 90 min
3. 1 jaar = 356 dae

4. Kyk na die horlosies en gee die tyd. Skryf dit in 24 uur digitale tyd.

- a) 19:20 b) 09:10



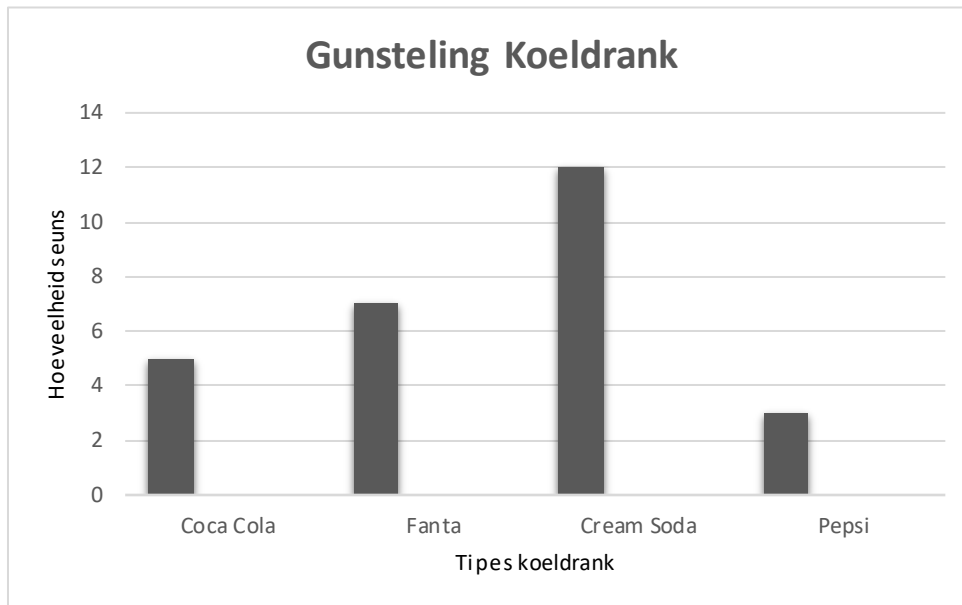
Aand



Oggend

Vraag 6: Kyk na die staafgrafiek en beantwoord die vrae. (5)

Hierdie staafgrafiek stel die Graad 4-seuns voor en hulle gunsteling koeldrank.



1. Van watter koeldrank hou hulle die meeste? **Cream Soda**
2. Van watter koeldrank hou hulle die minste? **Pepsi**
3. Voltooi die frekwensietabel:

Koeldrank	Telmerkies	Frekwensie
Coca Cola		5
Fanta		7
Cream Soda		12
Pepsi		3



Totaal 40