

Luister en Praat Totaal: 40

Naam: _____ Graad 5: _____

Opdrag: Luister na en bespreek visuele tekste, byvoorbeeld 'n weerverslag

Opdrag: Gedeelte 1

- Jou onderwyser gaan vir jou 'n klankgreep speel van 'n weerverslag en vir jou 'n voorbeeld uitdeel van hoe 'n weerkaart lyk.
- Jy gaan jou eie weerkaart moet maak wat jy gaan gebruik om 'n weervoorspelling te lewer vir die klas.
- Beplan hoe jou weerkaart gaan lyk op die volgende bladsy. Onthou die volgende:
 - a. Jou weerkaart moet 'n dag en datum hê.
 - b. Jou weerkaart moet verskillende weersimbole hê.
 - c. Jou weerkaart moet verskillende stede hê.
 - d. Die weerkaart moet verskillende temperature hê vir elke stad.
 - e. Jou weerkaart se byskrifte moet groot en duidelik wees sodat jou onderwyser en klasmaats kan lees as jy verduidelik.
- Bring nou al jou benodigdhede klas toe om jou weerkaart te maak. Jy gaan die weerkaart in die klas maak.
- Jou weerkaart moet A3 of A2 grote wees.

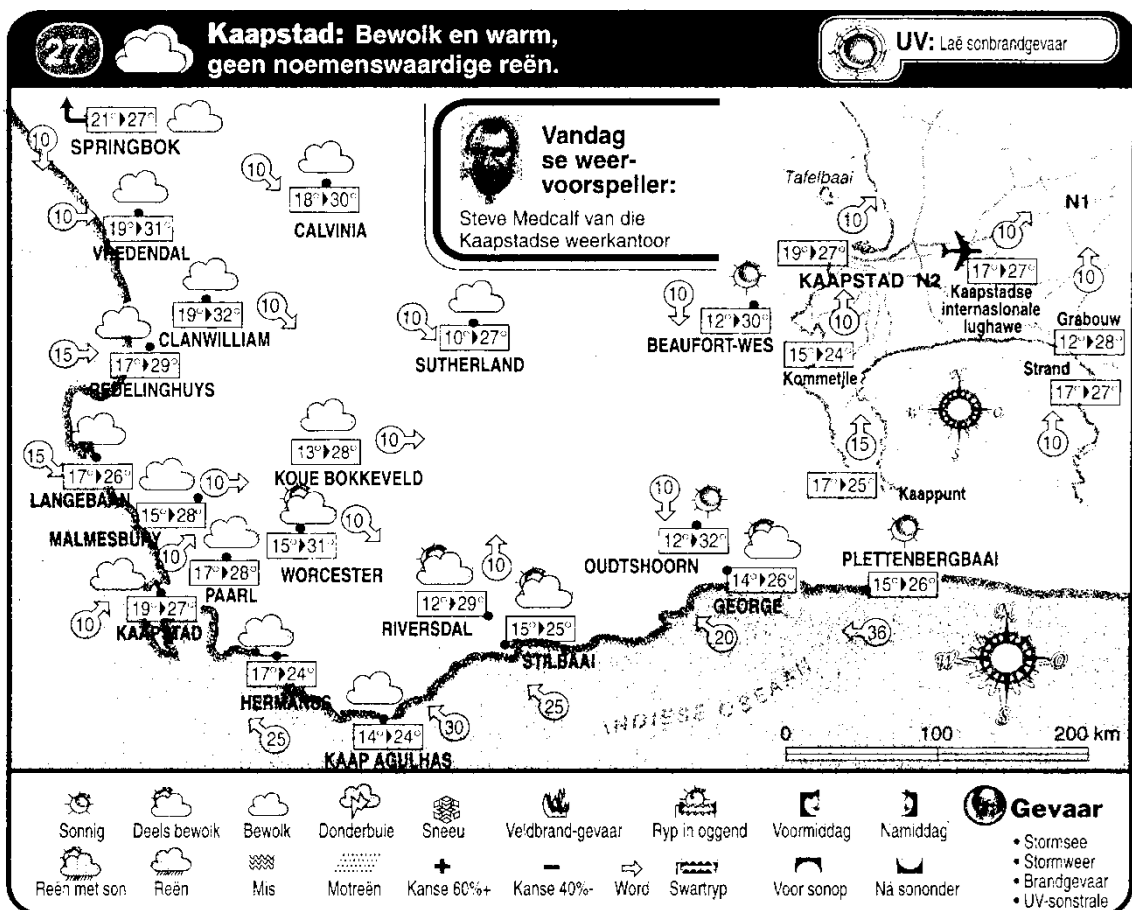
Opdrag: Gedeelte 2

- Kyk saan met jou ouers die Nuus 19:00 om te kyk hoe 'n weervoorspelling aan die einde van die Nuus gedoen word. Dit gaan jou help om jou eie weervoorspelling te doen. Let op die tipe woorde wat die weervoorspeller gebruik.
- Jy gaan nou jou weerkaart gebruik om 'n weervoorspelling voor te dra vir die klas.
- Jy moet hard en duidelik praat.



Beplanning van weerkaart

Voorbeeld van weerkaart



Luister en Praat Rubriek - Weervoorspelling

	1 - Benodig hulp	2 - gedeeltelik	3 - goed	4 - uitstekend
Woordeskat en taalgebruik	Sukkel om effektief te kommuniker a.g.v. beperkte woordeskat. Kan nie homself/haarself uitdruk nie.	Gebruik 'n beperkte woordeskat. Maak baie grammatikale foute.	Gebruik gepaste woordeskat. Praat in volsinne en gebruik en praat in die korrekte tyd, bv. Verlede, toekomstige of hede	Gebruik 'n uitgebreide woordeskat. Praat in volsinne en gebruik korrekte en goeie taal. Gebruik beskrywende woorde.
Gebruik gepaste volume en intonasie	Praat te sag of mompel. Moeilik om te verstaan of te hoor.	Praat te vinnig. Soms moeilik om te verstaan.	Praat stadig en duidelik. Maklik om te verstaan. Kan die meeste van die tyd duidelik gehoor word.	Praat stadig en duidelik. Kan ten alle tye maklik gehoor en verstaan word.
Inhoud van weervoorspelling	Neem nie deel nie. Leerder wou nie 'n weervoorspelling doen nie.	Beperkte inhoud. Leerder moet vrae stel om duidelikheid te kry	Spontaan. Gee genoegsame inhoud wat van die leerder verwag word.	Spontaan en uitgebrei. Inhoud verskaf meer inligting as wat verwag word.
Voorkoms van weerkaart	Die leerder het nie 'n weerkaart gehad nie.	Die leerder se weerkaart was nie voltooi nie. Die weerkaart het nie aan die spesifikasies voldoen nie.	Die leerder se weerkaart was goed, maar daar was van die spesifikasies wat nie op die weerkaart was nie.	Die leerder se weerkaart was baie netjies en kreatief. Die weerkaart het aan al die spesifikasies voldoen wat aan die leerder gegee is.
Vra vrae vir duidelikheid	Die leerder moet altyd vrae vra vir duidelikheid omdat hy selde aandag skenk wanneer opdragte gegee word.	Die leerder moet meeste van die tyd vrae vir duidelikheid vra omdat hy/sy omtrent altyd nie aandag skenk wanneer opdragte gegee word nie.	Die leerder hoef die meeste van die tyd nie vrae vir duidelikheid te vra nie, aangesien hy/sy die meeste van die tyd aandag skenk wanneer opdragte gegee word.	Die leerder hoef nooit vrae te vra vir duidelikheid nie, aangesien hy/sy altyd aandag gee wanneer opdragte gegee word.
				Totaal: __ /20
Verwerkte punt uit 40 (Punt uit 20 x 2)				Totaal: __ /40

Ontwerp 'n plakkaat vir COCA-COLA

Inligtingteks

Totaal: 20

Naam: _____

Graad 5: _____




Coca-Cola het 'n nuwe geur coke uitgebring. Die geur is pynappel. Hulle gaan blikkies Coke verniet uitdeel by die Coca-Cola Dome in Johannesburg. Die byeenkoms is van 09:00 – 13:00. Daar gaan ook opvoerings, kosstalletjies en springkastele vir kinders wees.

Hulle wil dit graag vir die publiek adverteer deur 'n kreatiewe plakkaat. Ontwerp vir Coke 'n kreatiewe en oorspronklike plakkaat wat mense se aandag sal trek.

Onthou om al die relevante inligting in te sluit, soos:

- Die nuwe geur
- Die plek
- Die tyd
- Watter aktiwiteite daar gaan wees

Onthou, mense lees plakkate om inligting te kry. Jou plakkaat moet dus netjies, kleurvol en leesbaar wees.



		Rubriek: Plakkaat					Punt				
		5	4	3	2	1					
1.	Doel: Taak slaag in sy doel. Inligting is volgens die teikengroep.	5	4	3	2	1					
2.	Organisasie van inhoud: Inligting is goed uiteengesit en voldoende.	5	4	3	2	1					
3.	Visuele en ontwerpelemente: Plakkaat maak 'n impak en pas visueel by die opdrag.	5	4	3	2	1					
4.	Taal, woordeskat en spelling: Noukeurige taalgebruik, goeie woordeskat en korrekte spelling.	5	4	3	2	1					
Totaal							/20				

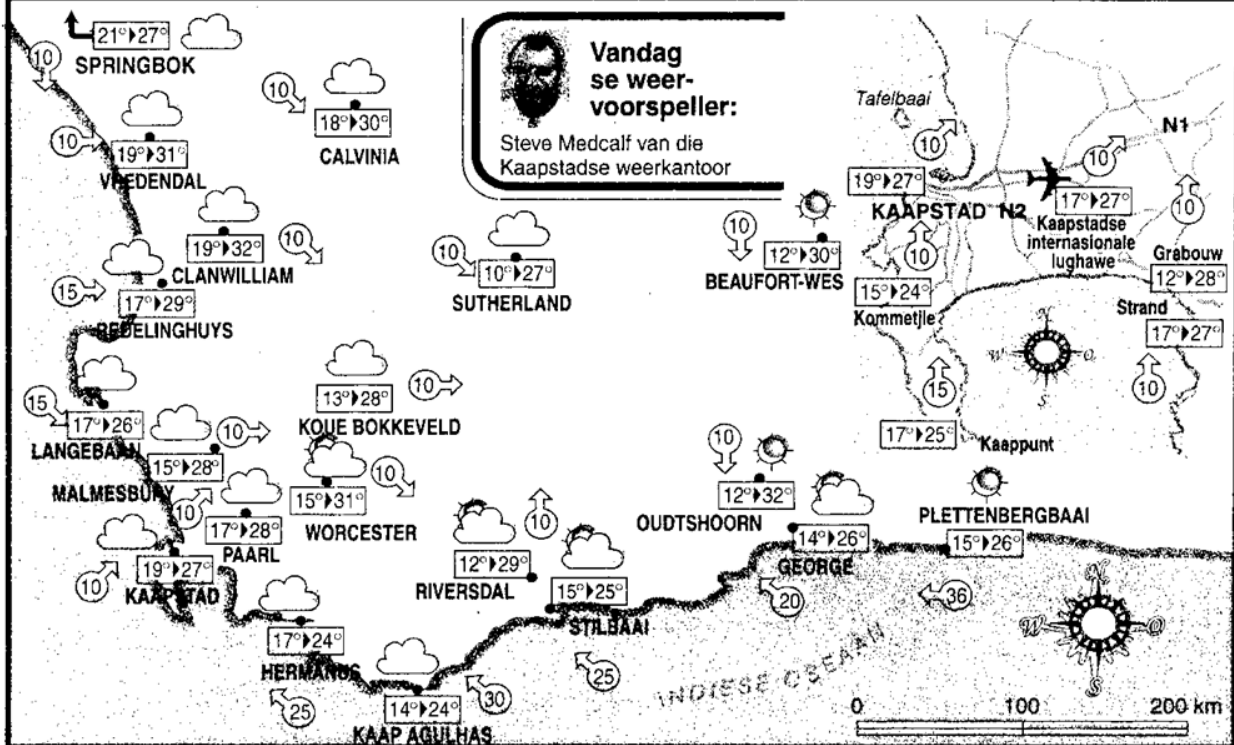
Weerverslag: Visuele teks

27

Kaapstad: Bewolk en warm, geen noemenswaardige reën.



UV: Laë sonbrandgevaar

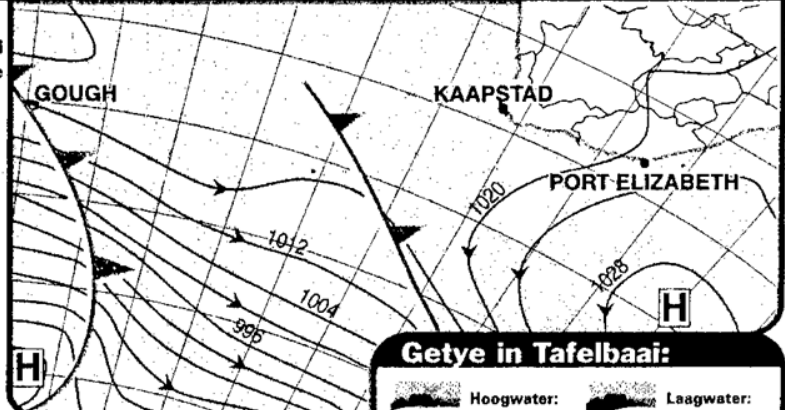


Sonlig	Deels bewolk	Bewolk	Donderbuie	Sneeu	Veldbrand-gevaar	Ryp in oggend	Voormiddag	Namiddag	Gevaar • Stormsee • Stormweer • Brandgevaar • UV-sonstrale
Reën met son	Reën	Mis	Motreën	Kanse 60%+	Kanse 40%-	Word	Swartryp	Voor sonop	

Wes-Kaap: 3 dae

Diep	Vr	Sa	So	Wind	reëre
Springbok	23°/27°	21°/29°	21°/28°	NW 10	
Calvinia	18°/26°	16°/31°	16°/31°	SW 10	
Vredendal	19°/28°	16°/29°	15°/30°	SW 10	
Malmesbury	16°/27°	14°/26°	13°/27°	SO 10	
Paarl	18°/28°	15°/27°	14°/26°	SO 10	
Kaapstad	20°/26°	19°/25°	18°/26°	SO 10	
Hermanus	18°/23°	16°/24°	17°/24°	SO 10	
Grabouw	16°/27°	16°/27°	15°/28°	SO 10	
Riversdal	15°/29°	17°/29°	16°/27°	SW 10	
George	16°/25°	16°/25°	17°/25°	SW 10	
Worcester	17°/30°	18°/31°	17°/32°	NW 10	
Beaufort-Wes	15°/30°	18°/32°	16°/33°	NW 10	
Oudtshoorn	17°/32°	17°/34°	18°/35°	NW 10	

Prognostiese kaart vir Donderdag:



Getye in Tafelbaai:

Hoogwater:	Laagwater:
Vandag 03:29 en 15:57	Vandag 09:47 en 21:59
Môre 04:11 en 16:40	Môre 10:29 en 22:43

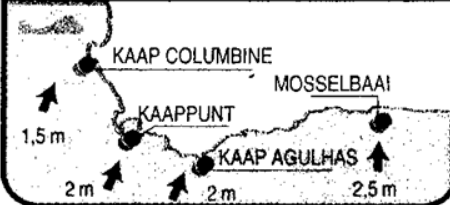
Reisigersgids:

	Temperatuur	Windrigting
Bloemfontein	05°/28°	NO 20
Kimberley	11°/28°	NW 15
Upington	16°/31°	NO 15
Port Elizabeth	14°/26°	O 35
Durban	17°/28°	NO 20
Pretoria	15°/28°	NO 15
Johannesburg	12°/24°	NO 15
Polokwane	14°/26°	O 15
Nelspruit	17°/25°	SO 15
Windhoek	12°/29°	N 25
Walvisbaai	19°/35°	NO 25

Reënvalsyfers:

Reënval vir die 24 uur tot 8 vm. gister:
Geen reënval hoër as 1 mm is aangemeld nie

Deinings:



Son en Maan:

● 1 Mei	○ 16 Mei	◐ 9 Mei	◑ 23 Apr.
Sonopkoms:	Maansopkoms:		
Vandag 07:10	Môre 07:10	Vandag 19:01	Môre 19:41
Sonsondergang:	Maansondergang:		
Vandag 18:20	Môre 18:19	Vandag 07:38	Môre 08:53

Weerverslag
Visuele teks
Totaal: 20

Naam: _____ Graad 5: _____

Bestudeer die weerverslag op die volgende bladsy en beantwoord die vrae hieronder.

1. Wie is die weervoorspeller?

_____ (1)

2. Waar werk die weervoorspeller?

_____ (1)

3. Watter stad se weervoorspelling is die?

_____ (1)

4. Wat is die weervoorspelling vir Kaapstad?

_____ (3)

5. Hoe laat is dit sonsopkoms?

_____ (1)

6. Hoe laat sal dit hoogwater wees in Tafelbaai vandag?

_____ (1)

7. Skryf al die stede neer wat met 'n "C" begin.

_____ (2)

8. Rangskik die volgende stede se name in alfabetiese volgorde:

Kaapstad, Calvinia, Springbok, Langebaan, Beaufort-Wes

_____ (5)

9. Waarvoor staan die volgende weersimbole? (5)











Totaal: ____/20

Inligtingteks: Memorandum

1. Wie is die weervoorspeller?

Die weervoorspeller is Steve Medcalf.

2. Watter stad se weervoorspelling is die?

Dit is Kaapstad se weervoorspelling.

3. Wat is die weervoorspelling vir Kaapstad?

[√] Bewolk en warm, [√] geen noemenswaardige reën. [√]

4. Hoe laat is die sonsopkoms?

Die sonsopkoms is 07:10.

5. Hoe laat sal dit hoogwater wees in Tafelbaai vandag?

03:29 of 15:57

6. Skryf al die stede neer wat met 'n "C" begin.

[√] Calvinia en [√] Clanwilliam

7. Rangskik die volgende stede se name in alfabetiese

volgorde:

[√] Beaufort-Wes, [√] Calvinia, [√] Kaapstad, [√] Langebaan, [√] Springbok

8. In watter stad bly jy? Leerder se eie antwoord.

Totaal: ____/15