

Lewensvaardigheid  
Asseseringstaak Kwartaal 2  
Graad 2

Naam en Van: \_\_\_\_\_

Datum: \_\_\_\_\_

## MEMORANDUM




Af delings		Punt
1. Aanvangskennis en Persoonlike en Sosiale Welstand	40	
2. Skeppende kunste	20	
3. Liggaamsopvoeding	30	
Totaal	90	

# Aanvangskennis

Totaal: 20

VRAAG I - Die seisoene

I.I. Kyk na die prent en skryf neer watter seisoene dit is. (4)





1.2. Pas die sinne by die regte prent deur 'n lyn met jou liniaal te trek. (4)

Wanneer dit sonnig is, dra ons hoede om ons teen die son te beskerm.

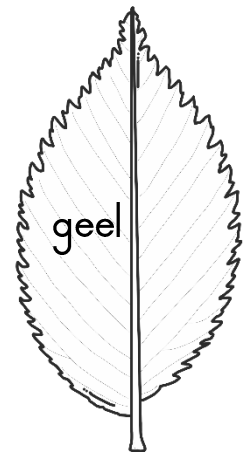
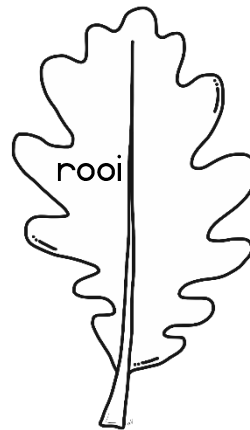
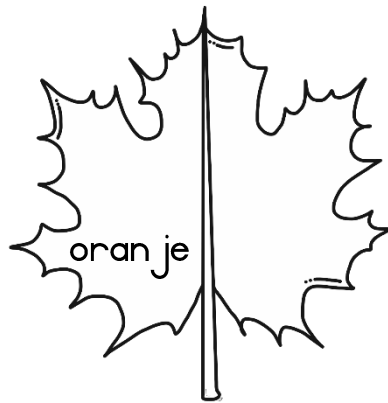
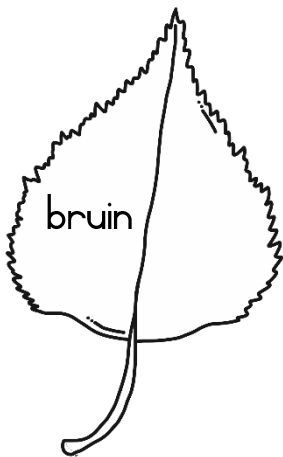
As dit koud is buite, dra ons warm wolklere.

Wanneer dit warm is, dra ons koel klere.

Op reënerige dae het ons 'n reën jas en 'n sambreel nodig.



1.3. Kleur die blare in. Gebruik die kleure van herf s. (4)



1.4. Wat doen party diere die hele winter lank? (2)


Sommige diere slaap die hele winter deur.√ Ons sê hulle hiberneer.√

1.5. Hoe beskerm party diere hulself teen die koue? (1)


Hulle het 'n dik pels wat hulle warm hou.

## VRAAG 2 - Plaasdiere

2.1. Vul die antwoorde in. (10÷2=5)



Manlik	beer
Vroulik	sog
Kleintjie	varkie
Geluid	snork
Blyplek	varkhok



Manlik	haan
Vroulik	hen
Kleintjie	kuiken
Geluid	kraai of kekkel
Blyplek	hoenderhok

Rubriek: Aanvangskennis		Punt
Vraag 1 - Seisoene	15	
Vraag 2 - Plaasdiere	5	
Totaal	____/20	

# Persoonlike en Sosiale Welstand

Totaal: 20

## VRAAG 1 - Wilde diere

1.1. Gebruik die woorde in die blokkie en voltooi die sinne. ( $10 \div 2 = 5$ )

wilddiewe

bulle

soogdier

ruik

ivoortande

horings

boom

katfamilie

troppe

sien

- a. katfamilie
- b. soogdier, ivoortande
- c. sien, ruik, wilddiewe, horings.
- d. boom
- e. troppe, bulle

1.2. Teken 'n wilde diere en skryf een sin oor hoe hy homself kamoefleer. (2)

Een van die volgende antwoorde kan as korrek gemerk word:

- 1. Luiperd se pels maak hom moeilik om raakgesien te word.
- 2. Verkleurmannetjie - Verkleurmannetjies kan hulle kleur verander om aan te pas by die bome waarin hulle woon.
- 3. Sebra - Die sebra se strepe maak dit moeilik om hom in die bos te sien.
- 4. Uil se vere maak hom moeilik om raakgesien te word.

## VRAAG 2 - Diere wat in 'n dam, rivier en see leef

2.1. Skryf die name van die diere wat in 'n dam, rivier en see leef in die tabel. (6÷2=3)

Enige ander antwoord wat reg is kan as korrek gemerk word.


dam	rivier	see
Visse, eende, paddas en naaldekokers.	Krokodille, paddas, otter, visse ensovoorts.	Walvis, dolfyn, haai, rob, jellievis, visse, krap, seekat, stervisse ensovoorts.

2.2. Waar leef die volgende skilpaaie? (3)

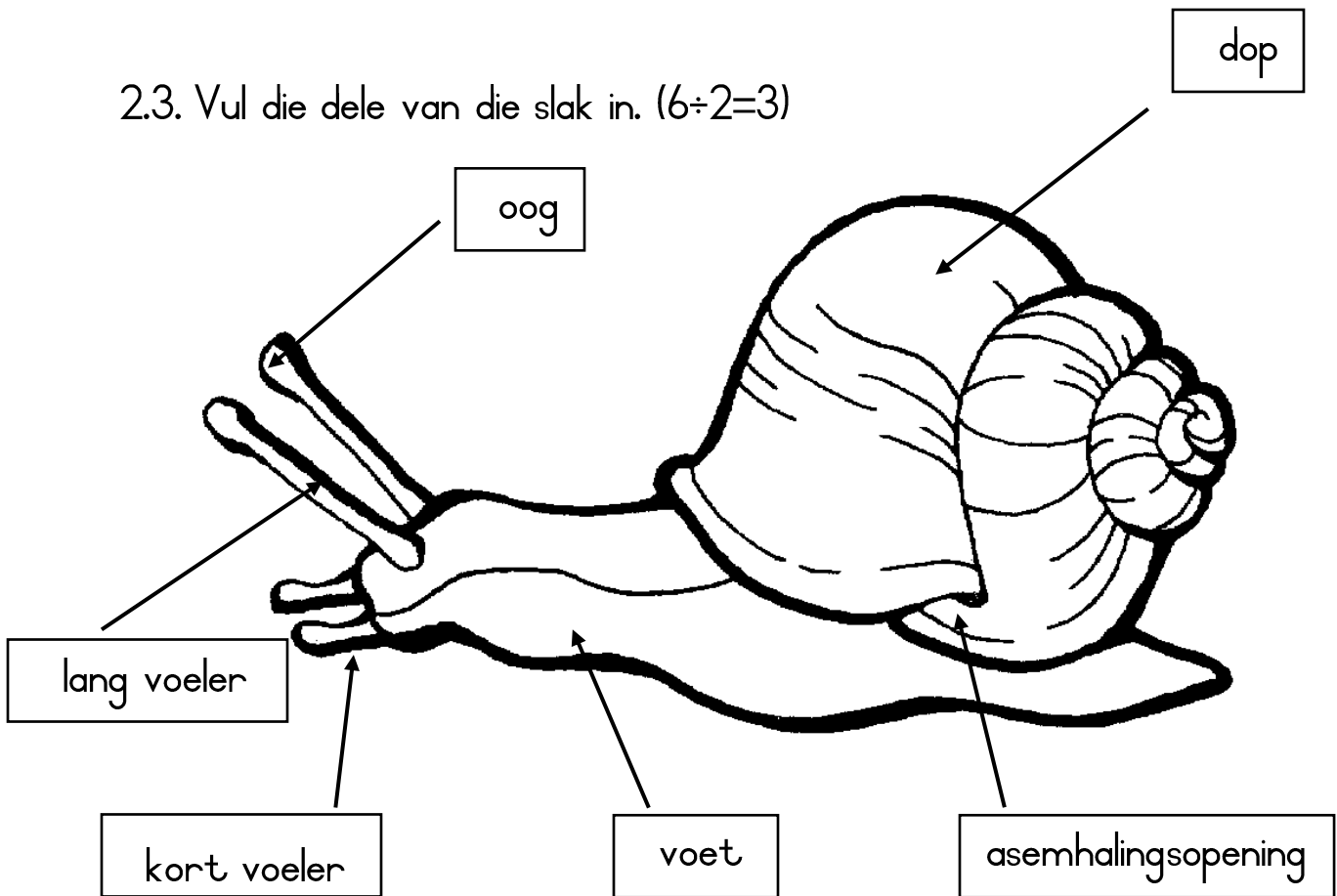
a) Waterskilpad - Ek leef in die see.

b) Landskilpad - Ek leef op land.

c) Moerasskilpad - Ek leef in varswater in vleilande.



2.3. Vul die dele van die slak in. ( $6 \div 2 = 3$ )



2.4. Beantwoord die volgende vrae: (4)

- Waar woon bye? byekorwe
- Waarvan bou bye hul skuiling? Hulle bou hulle korwe van was.
- Hoekom bou voëls neste? Gee 2 redes.
  - Om hul eiers in te lê.
  - As 'n skuiling.



Rubriek: Persoonlike en Sosiale Welstand		Punt
Vraag 1.1. Wilde diere - Vul regte woord in.	5	
Vraag 1.2. Teken wilde dier en skryf hoe hy kamoefleer.	2	
Vraag 2.1. Skryf die name van diere wat leef in 'n dam, rivier en die see.	3	
Vraag 2.2. Waar leef die volgende skilpaaie?	3	
Vraag 2.3. Vul die dele van 'n slak in.	3	
Vraag 2.4. Beantwoord die vrae.	4	
Totaal		____/20