

Lewensvaardigheid  
Asseseringstaak Kwartaal 4  
Graad 3

Naam en Van: \_\_\_\_\_

Datum: \_\_\_\_\_

Afdeling		Punt
1. Aanvangkennis	20	
2. Persoonlike en Sosiale Welsyn	30	
3. Skeppende Kunste	20	
4. Liggaamsopvoeding	30	
Totaal	100	

# Afdeling I

## Aanvangskennis

Punte: 20

### Vraag I: Plante

1. Kyk na die beskrywings en nommer in watter volgorde suikerriet gekweek en verwerk word. (6)

Beskrywing	Nommer
Besproeiing word gebruik om die suikerriet nat te lei.	
Suikerrietlote word geplant.	
Die suikerriet kom by die meule aan.	
Suikerriet word geoes en in bondels saamgebind.	
By die meule word die suikerriet saamgepers en die suikerstroop uitgedruk. Die suiker word dan gewas en geraffineer, gereed om deur ons gebruik te word.	
Die landerye word met trekkers geploeg.	



2



2. Beantwoord die volgende vrae:

2.1. Wat is suikerriet? (2)

---

---

2.2. In watter klimaat kom suikerriet voor? (1)

---

2.3. Suikerriet het baie \_\_\_\_\_ en \_\_\_\_\_ nodig. (2)

2.4. Wat bevat die stingel van suikerriet en hoe lyk dit? (2)

---

---

---

## Vraag 2: Wat ons van die aarde kry

Is die volgende stellings waar of vals? (5)

2.1. Die dun laag van die aarde waarop ons leef word die "bogrond" genoem. \_\_\_\_\_ (1)

2.2. Uit die eerste laag grond kry ons minerale soos goud, diamante en petroleum, asook steenkool. \_\_\_\_\_ (1)

2.3. Rondom die aarde is daar 'n baie dik laag lug. \_\_\_\_\_ (1)

2.4. Brood is direk afkomstig van die grond. \_\_\_\_\_ (1)

2.5. Pampoen is direk afkomstig van die grond. \_\_\_\_\_ (1)

### Vraag 3: Die aarde – van klei tot baksteen

Nommer die volgende beskrywings in die korrekte volgorde om te wys hoe bakstene gemaak word. (8 x ½ = 4)

Nommer	Beskrywing
	Wanneer die bakstene uit die steenoond gehaal word, word hulle gesorteer.
	Klei word fynge maal en met water gemeng.
	'n Mas jien word gebruik om die stroke in blokke te sny.
	Die klei word met swaar mas jiene uitgegrawe.
	Die bakstene word in hope gepak en is gereed om verkoop te word.
	Die gedroogde stukke klei word in 'n steenoond gebak.
	'n Mas jien sny die kleimengsel in stroke.
	Die kleiblokke word gedroog.

Totaal Afdeling I		Punt
1. Plante	11	
2. Wat ons van die aarde kry	5	
3. Die aarde – van klei tot baksteen	4	
<b>Totaal</b>	<b>20</b>	

## Afdeling 2

### Persoonlike en Sosiale Welsyn

Punte: 30

#### Vraag I: Rampe

- 1.1. Kyk na die volgende prente en skryf in die blok onder elke prent watter ramp dit is. (4)



1.2. Kies 'n woord uit die blok en skryf dit by die regte beskrywing. (6)

brand	aardbewing	vloed
	veldbrande	ramp

1.2.1. Die ramp gebeur wanneer 'n deel van die aardkors skielik skud of bewe. \_\_\_\_\_ (1)

1.2.2. As die gas in die lug wat ons suurstof noem aanwesig is kan dit 'n \_\_\_\_\_ veroorsaak. (1)

1.2.3. \_\_\_\_\_ veroorsaak gronderosie en lugbesoedeling. (1)

1.2.4. Die ramp word veroorsaak na baie swaar reën. \_\_\_\_\_ (1)

1.2.5. 'n \_\_\_\_\_ is iets wat skielik gebeur en ernstige gevolge vir mense en die natuur het. (1)

1.3. Skryf drie reëls neer oor hoe mens veilig kan bly tydens 'n donderstorm. (3)

1. \_\_\_\_\_

2. \_\_\_\_\_

3. \_\_\_\_\_


1.4. Skryf 2 dinge neer wat aanwesig moet wees vir 'n brand om te ontstaan. (2)

1. \_\_\_\_\_

2. \_\_\_\_\_

Vraag 2: Diere by wie ons kos en klere kry

2.1. Kyk na die prente en skryf onder elke prent oor hoe die diere mense help. Skryf 2 voorbeelde neer. (8)



\_\_\_\_\_  
\_\_\_\_\_  
\_\_\_\_\_



\_\_\_\_\_  
\_\_\_\_\_  
\_\_\_\_\_



\_\_\_\_\_  
\_\_\_\_\_  
\_\_\_\_\_



\_\_\_\_\_  
\_\_\_\_\_  
\_\_\_\_\_

2.2. Skryf 'n sin oor hoe die volgende diere ons help. (2)

2.2.1. Gidshond:

---

---

2.2.2. Waghond:

---

---

2.3. Is die volgende stellings waar of vals? Voltooi die tabel. (5)

Stelling	Waar of vals
1. Skaaphonde maak seker dat al die koeie bymekaar bly.	
2. Wanneer ons skape se wol sny noem ons dit skeer.	
3. Hoenders behoort aan 'n groep diere wat ons karnivore noem.	
4. Bye leef in gemeenskappe wat ons korwe noem.	
5. Jaghonde help jagters om voëls of diere wat hulle geskiet het, te kry.	

Totaal Af deling 2: \_\_\_\_/30



## Afdeling 3

### Skeppende Kunste – Uitvoerende kunste + Visuele Kuns

Punte: 10 + 10 = 20

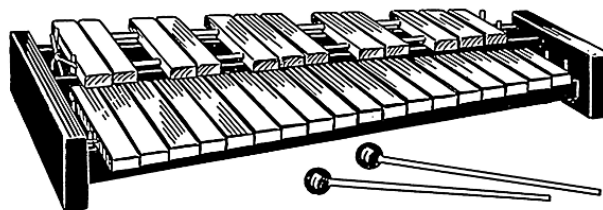

#### Vraag I: Uitvoerende Kunste - Improviseer en Interpreteer

##### Opdrag:


Luister na en identifiseer bekende Suid-Afrikaanse instrumente, verken die unieke eienskappe van elke instrument.

##### Instruksies:

- Jou onderwyser gaan vir jou 'n video speel van verskillende instrumente. Jy moet mooi luister en kyk na elke instrument en besluit watter instrument jy hoor en gesien het.
- Jou onderwyser gaan vir jou 'n werkkaart gee waarop jy elke instrument se naam moet skryf en dan een eenskap moet neerskryf van die instrument.
- Jy hoef slegs 5 instrumente te kies.



9





# Instrumente



	Instrument se naam	Beskrywing
1.		
2.		
3.		
4.		
5.		



Punt Aktiwiteit I: \_\_\_/10

## Vraag 2: Visuele Kuns – 3D ontwerpe

Opdrag:

Papiermaché: skep jou eie instrument deur die tegniek van papiermaché te gebruik.

Let daarop – Jou instrument moet werk of 'n geluid kan maak.

Jy sal gemerk word volgens die volgende rubriek:

<b>Rubriek – Visuele Kuns</b>		
1. Die leerder se kunswerk is kleurvol. Was die leerder kreatief gewees?	5	
2. Die leerder het 'n instrument geskep uit papiermaché en die instrument werk.	5	
<b>Totaal</b>	<b>10</b>	



Afdeling 4

Liggaamsopvoeding

Punte: 30