



GELD

Verbind die muntstukke met hul name



een rand	twee rand	vyf sent	vyf rand	twintig sent
----------	-----------	----------	----------	--------------

- Omkring die muntstuk wat die meeste is.



- Omkring die muntstuk wat die minste is.



GELD



Verbind die note met hul name



tien
rand

vyftig
rand

tweehonderd
sent

honderd
rand

twintig
rand

- Omkring die noot wat die meeste is.



- Omkring die noot wat die minste is.

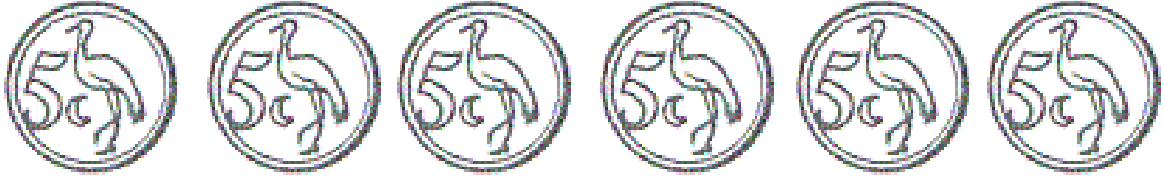


Geld

5c, 10c en 20c

Kleur die regte hoeveelheid in:


1. Kleur 20 sent in



Kleur 30 sent in




2. Kleur 15 sent in



3. Kleur 50 sent in



4. Kleur 15 sent in



Geld

R1, R2 en R5

Kleur die regte hoeveelheid in:

1. Kleur 10 rand in



2. Kleur 6 rand in



3. Kleur R/5 in




Geld

Kleur die regte hoeveelheid in:

1. Kleur R/5.50 in:






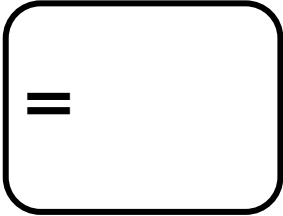





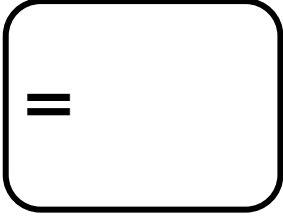



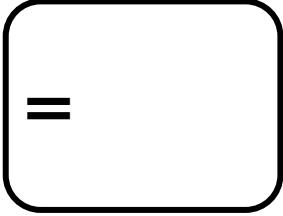





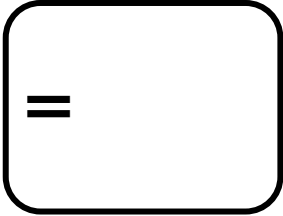




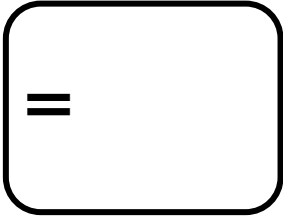
2. Kleur R20.30



3. Kleur R/2.40 in



Tel die geld in elke ry en skryf die total in die blokkie neer.

Geld - Woordsomme


1. Lisa wil graag vir haar 'n nuwe linaal koop. Die linaal kos R21,50 en sy het net R20 in haar beursie. Hoeveel geld kort sy?

2. David koop elke dag vir hom 'n suigstokkie wat R2 kos. Hy het nog R18 in sy beursie oor. Vir hoeveel dae kan hy nog elke dag 'n suigstokkie koop?

3. Ben en sy ma gaan inkopies doen vir sy verjaarsdagpartytjie. Hulle koop die volgende:

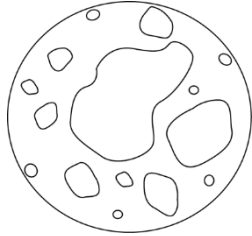
- 28 lekkers teen 50c elk.
- 14 kolwyntjies teen R2,50 elk.

Hoeveel spandeer hulle altesaam?



Geld - Optel en aftrek

Help vir die ruimtevaarders om die volgende somme met geld te bereken.



a) $\begin{array}{r} R10,50 \\ - \underline{R1,50} \\ \hline \end{array}$

b) $\begin{array}{r} R20,30 \\ + \underline{R2,50} \\ \hline \end{array}$

c) $\begin{array}{r} R5,50 \\ - \underline{R3,20} \\ \hline \end{array}$

d) $\begin{array}{r} R11,50 \\ + \underline{R8,10} \\ \hline \end{array}$


e) $\begin{array}{r} R12,00 \\ + \underline{R12,00} \\ \hline \end{array}$

f) $\begin{array}{r} R10,00 \\ - \underline{R4,50} \\ \hline \end{array}$

g) $\begin{array}{r} R10,00 \\ + \underline{R2,30} \\ \hline \end{array}$

h) $\begin{array}{r} R8,00 \\ + \underline{R3,50} \\ \hline \end{array}$

i) $\begin{array}{r} R10,50 \\ + \underline{R10,50} \\ \hline \end{array}$



Geld

Kyk na die geld in die eerste ry en besluit watter kombinasies van note jy moet gebruik om die geld te kry. Die eerste een is vir jou gedoen.

R150	R50	R50	R50
R250			
R80			
R50			
R90			

Geld

Kyk na die geld in die eerste ry en besluit watter kombinasies van note en munte jy moet gebruik om die geld te kry. Die eerste een is vir jou gedoen.

Die reghoeke is vir die note.

Die sirkels is vir die munte.

R11,50	R10	R1	50c
R20,20			
R5,30			
R30,50			

