

Lewensvaardigheid  
Asseseringstaak Kwartaal I  
Graad 2

Naam en Van: \_\_\_\_\_

Datum: \_\_\_\_\_

Afdelings		Punt
1. Aanvangkennis	20	
2. Persoonlike en sosiale welstand	30	
3. Skeppende Kunste	20	
4. Liggaamlike opvoeding	30	
	Totaal	100

# Aanvangskennis

## VRAAG 1: Verskillende kossoorte

1.1. Gebruik die woorde in die blokke om die sinne te voltooi. (6)

groeï

voedselgroepe

energie

siek

gesonde voedsel

Ons liggame het \_\_\_\_\_ nodig sodat ons kan  
\_\_\_\_\_. Ons moet elke dag van elkeen van die  
\_\_\_\_\_ eet. Ons het ook gesonde voedsel nodig om  
vir ons genoeg \_\_\_\_\_ te gee om alles te doen wat ons  
moet doen. As ons nie gesonde voedsel eet nie, kan ons baie  
\_\_\_\_\_ word.

1.2. Noem die vyf voedselgroepe wat 'n mens kry. Gebruik die prent om jou te help. (5)

1. \_\_\_\_\_
2. \_\_\_\_\_
3. \_\_\_\_\_
4. \_\_\_\_\_
5. \_\_\_\_\_




## VRAAG 2: Water

2.1. Noem 2 dinge waarvoor jy water gebruik. (2)

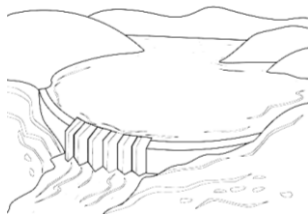
2. \_\_\_\_\_  
\_\_\_\_\_  
\_\_\_\_\_  
\_\_\_\_\_

1. \_\_\_\_\_  
\_\_\_\_\_  
\_\_\_\_\_  
\_\_\_\_\_

2.2. Waar kry ons water vandaan? Verbind elke woord met die korrekte prent. (5)



fontein



windpomp



rivier



dam



put

2.3. Noem twee maniere waarop ons water kan bespaar.  
(2)

2. \_\_\_\_\_  
 \_\_\_\_\_  
 \_\_\_\_\_  
 \_\_\_\_\_

1. \_\_\_\_\_  
 \_\_\_\_\_  
 \_\_\_\_\_  
 \_\_\_\_\_

Rubriek aanvangskennis		
		Punt behaal
1.1. Voltooi die sinne.	6	
1.2. Noem die vyf voedselgroepe.	5	
2.1. Noem 2 gebruike van water.	2	
2.2. Waar kry ons water vandaan?	5	
2.3. Noem 2 maniere van water besparing.	2	
Totaal:	20	___/20

## Persoonlike en sosiale welstand

VRAAG 1 - Lug en son

Is die volgende stellings waar of vals? (5)


Stelling	Waar of Vals
a. Die lug wat ons inasem bevat suurstof.	
b. Wanneer ons vuil lug inasem, kan ons liggame nie behoorlik werk nie	
c. Sonlig maak 'n mens ongelukkig en ongesond.	
d. Sonlig help ons liggame om vitamieni D te maak.	
e. Ons hoef nie sonskerm en 'n sonhoed aan te sit as ons buite gaan speel nie.	

## VRAAG 2 - Ek en ander


Kyk na die prente en maak 'n regmerk (✓) by die prente wat 'n goeie maat is en 'n kruis (X) by die prente wat nie 'n goeie maat is nie. (4)



Ek help my maat wat in 'n rolstoel is.



"Moenie met ons baklei nie."



Ek deel my appel met my maats.



Ek gee my maat 'n drukkies.

### VRAAG 3 - Almal is spesiaal

Kyk na die prente en voltooi die sinne. (5)

a. Ben kan nie loop nie. Hy gebruik 'n \_\_\_\_\_ om rond te beweeg.




b. Mia is blind. Sy gebruik 'n \_\_\_\_\_ om oor die weg te kom.



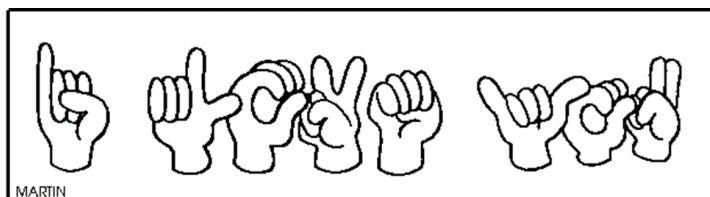
c. Pieter is doof. Hy gebruik 'n \_\_\_\_\_ om hom te help om te hoor.



d. Thabo gebruik \_\_\_\_\_ om te kan loop.



e. Jan kan nie praat nie. Hy gebruik \_\_\_\_\_ om te kommunikeer.



## VRAAG 4 - Suiwer water

4.1. Noem 4 maniere hoe ons water kan suiwer. (4)

a. \_\_\_\_\_


b. \_\_\_\_\_

c. \_\_\_\_\_

d. \_\_\_\_\_

4.2. Nommer die stappe om 'n waterfilter te maak in die regte volgorde. (5)




	Voeg fyn sand bo-op die watte by.
	Draai die bottel onderstebo.
	Voeg growwe sand by.
	Sny die bodem van 'n plastiekbottel versigtig af.
	Drup die modderwater bo in.
	Gooi klein klippies of gruis in die bottel.





## VRAAG 5 - Gesonde leefwyse

Kleur die gelukkige gesig in as dit 'n goeie gewoonte is en kleur die hartseer gesig in as dit 'n slegte gewoonte is. ( $10 \div 2 = 5$ )

Ek eet gesonde voedsel.	 
Ek tel rommel op en gooi dit in die vullisdrom.	 
Ek lê ure lank voor die TV rond.	 
Ek borsel my tande een maal per maand.	 
Ek sit by volwassenes as hulle rook.	 
Ek oef en gereeld.	 
Wanneer ek hoës of nies, hou ek my hand voor my mond	 
Ek eet baie lekkergoed.	 
Ek gooi rommel by die motor- of taxivenster uit.	 
Ek was gereeld my hare.	 

## VRAAG 6 - Godsdienste

Gebruik die woorde in die blokkie om die sinne te voltooi. (4÷2=2)

Diwali

Kersdag

Eid

Chanoeka

1. Die maan se vorm sê vir ons wanneer dit \_\_\_\_\_ is.
2. Met \_\_\_\_\_ eet ons graag pannekoek en olieringe. Ons steek ook kerse in die huis aan.
3. Met \_\_\_\_\_ steek ons klein lampies oral in die huis aan. Ons versier ons huis en hou vuurwerkvertonings
4. Op \_\_\_\_\_ het ons 'n Kersboom in ons huis. Ons plaas die geskenke onder die Kersboom. Ons versier die boom en maak 'n ster heel boaan vas


Rubriek persoonlike en sosiale welstand		
		Punt behaal
1. Lug en son	5	
2. Ek en ander	4	
3. Almal is spesiaal	5	
4. Suiwer water	9	
5. Gesonde leefwyse	5	
6. Godsdienste	2	
Totaal:	30	___/30

# Skeppende kunste

## - Uitvoerende kunste -

Improviseer en interpreteer

Skep 'n kort toneelstukkie wat op 'n gepaste onderwerp gebaseer is.



OPDRAG:

Dink 'n rolspel saam met jou maat uit oor 'n kind wat 'n ander kind afknou. Sê vir mekaar wat ons kan doen om te keer dat iemand afgeknou word.

Rubriek – Uitvoerende Kunste	5	4	3	2	1
1. Deelname: Leerder neem aktief deel deur 'n bydrae te maak t.o.v die beplanning van die rolspel.	5	4	3	2	1
2. Genot: Die leerder geniet dit om deel te neem aan die skeppende aktiwiteit en gee sy samewerking.	5	4	3	2	1
3. Inhoud van Rolspel: Toepaslik op die onderwerpe wat gegee is.	5	4	3	2	1
4. Kreatiwiteit: Was die rolspel oorspronklik en iets uitsonderlik.	5	4	3	2	1
Totaal (20÷2=10)	___/20÷2 = ___/10				

# Skeppende kunste

## - Visuele kuns -



2D-ontwerpe

OPDRAG:

- Verf 'n prent van jouself saam met 'n maat in aksie.  
Byvoorbeeld: dans, spring, hardloop, hop ensovoorts.
- Jou prent moet slegs geverf word in KOEL kleure.

Jy sal geassesseer word volgens die volgende rubriek:

Rubriek – Visuele Kuns	1	2	3	4	5
1. Die leerder se kunswerk het slegs koel kleure.					
2. Die leerder het homself geverf in aksie.					
3. Die leerder het sy maat geverf in aksie.					
4. Die leerdere se kunswerk is kreatief en hy het moeite gedoen.					
Totaal (20÷2=10)	____/20÷2 = ____/10				

1- Swak    2- poging aangewend    3- Voldoende    4- Goed    5- Uitstekend

# Liggaamlike opvoeding

## Resies

Die klas gaan 'n resies hou deur 'n aartappel, eier, klein ballet jie en lepel te gebruik.

Leerders moet die volgende skool toe bring:

1. 'n Aartappel
2. 'n Eier
3. 'n Klein ballet jie
4. 'n Eetlepel



Inligting van aktiwiteit:

1. Die onderwyser verdeel die leerders in groepe, byvoorbeeld in groepe van 5. Daar sal dus 5 leerders op 'n slag teen mekaar hardloop.
2. Die eerste rondte hardloop hulle met die aartappel op die eetlepel.
3. Die tweede rondte hardloop hulle met die eier op die eetlepel.
4. Die derde rondte hardloop hulle met die klein ballet jie op die eetlepel.
5. Elke leerder moet met al 3 items 'n beurt kry om te hardloop.

Rubriek – Liggaamlike opvoeding: Resies	1	2	3	4	5
	Item het die hele tyd geval.	Item het nou en dan geval.	Item het minder as 4 keer geval.	Item het minder as 2 keer geval	Item het glad nie geval nie.
1. Was die leerder instaat om met die aartappel te hardloop sonder dat dit af val?					
2. Was die leerder instaat om met die eier te hardloop sonder dat dit af val?					
3. Was die leerder instaat om met die klein ballet jie te hardloop sonder dat dit af val?					
4. Die leerder het die aktiviteit geniet en het met entoesiasme deel geneem.	Die leerder wou glad nie deelneem nie.	Die leerder het 'n poging aangewend om deel te neem, maar was nie baie entoesiasies nie en dit het ook nie gelyk of die leerder dit geniet nie.	Die leerder het 'n poging aangewend.	Die leerder het die aktiviteit redelik geniet.	Die leerder het die aktiviteit baie geniet en hy was entoesiasies.
Punt uit 10	____/20 ÷ 2 = 10				
Verwerkte punt uit 30	____/10 x 3 = ____/30				