

Help vir Snoopy om te tel hoeveel geld hier is.

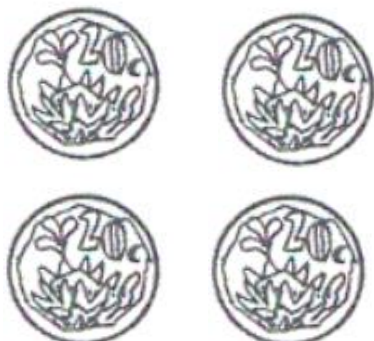
Naam: _____ Datum: _____



=



=



=



=



=

Tel hoeveel munte daar is in die groot blok en skryf die antwoord in die blokke.





GELD

Verbind die muntstukke met hul name



een rand	twee rand	vyf sent	vyf rand	twintig sent
----------	-----------	----------	----------	--------------

- Omkring die muntstuk wat die meeste is.



- Omkring die muntstuk wat die minste is.



GELD



Verbind die note met hul name



tien
rand

vyftig
rand

tweehonderd
rand

honderd
rand

twintig
rand

- Omkring die noot wat die meeste is.



- Omkring die noot wat die minste is.

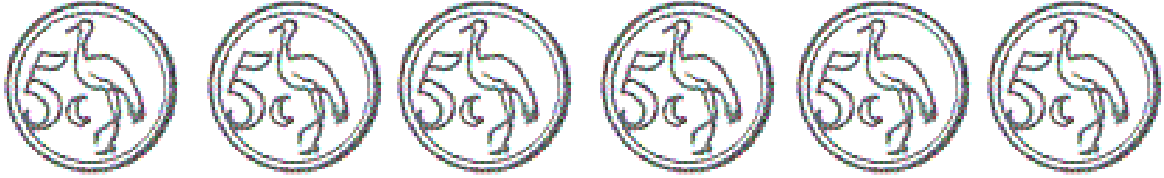


Geld

5c, 10c en 20c

Kleur die regte hoeveelheid in:


1. Kleur 20 sent in



Kleur 30 sent in




2. Kleur 15 sent in



3. Kleur 50 sent in



4. Kleur 15 sent in



Geld

R1, R2 en R5

Kleur die regte hoeveelheid in:

1. Kleur 10 rand in



2. Kleur 6 rand in



3. Kleur R/5 in




Geld

Kleur die regte hoeveelheid in:

1. Kleur R/5.50 in:



2. Kleur R/6.20



3. Kleur R/2.40 in



Tel die geld in elke ry en skryf die total in die blokkie neer.



=



=



=



=



=

Geld - Woordsomme

1. Jan koop 4 los lekkers. Elke lekker kos 20c. Hoeveel het Jan betaal vir die lekkers?

2. David koop elke dag vir hom 'n suigstokkie wat R2 kos. Daar is 7 dae in n week. Hoeveel rand se suigstokkies het hy vir hom gekoop teen Sondag?

3. Susan spaar elke dag R4. Hoeveel spaar sy in 5 dae?



Geld

Kyk na die geld in die eerste ry en besluit watter kombinasies van munte jy moet gebruik om die geld te kry. Die eerste een is klaar vir jou gedoen.

