

Toets

Vraestel 1: 46 punte

Vraag 1: Bereken - Vermenigvuldig, deel, plus en minus

(18)

$78943 - 65\,349$

$345\,378 + 76\,563$

$56\,736 \times 67$

$87\,550 \div 25$

$947 \div 9$

$R212,38 + R78,45$

Vraag 2: Getalpatrone en Meetkundige patrone


3

Voltooi die volgende patrone.

2.1) $\frac{1}{8}; \frac{2}{8}; \frac{3}{8}; \underline{\quad}; \underline{\quad}; \frac{6}{8}; \frac{7}{8}$ (1)

2.2) 850; 800; 750; $\underline{\quad}$; $\underline{\quad}$; $\underline{\quad}$ (1)

2.3) Hoeveel sirkels sal in die volgende patroon wees?



(1)

Vraag 3: Breuke

3

- a) $\frac{7}{8} - \frac{5}{8} =$ _____ (1)
- b) $\frac{5}{6} - \frac{1}{3} =$ _____ (1)
- c) $\frac{4}{5}$ van R125 = _____ (1)

Vraag 4: Massa, lengte, kapasiteit en volume

8

4.1 Voltooi die tabel deur die regte antwoorde in te vul:

	Eenheid	Omskakeling
4.1.1	879 <i>ml</i>	_____ <i>l</i>
4.1.2	18cm	_____mm
4.1.3	4024 km	_____km _____ m
4.1.2	2974 mm	_____ m

(5)

4.2 Oupa Gert het 45 543 liter water in sy tenk in die tuin. Dit is baie droog die jaar en hy besluit om sy groot tuin nat te maak met die water in die tenk. Hy gebruik 985 liter water. Hoeveel liter water het hy oor in die tenk?


(3)

Vraag 5: Tyd

4


5.1 Teken die wysers op die horlosie in om 16:45 aan te dui.

(1)



5.2 Gee die digitale tyd vir hierdie tyd in die middag.

(1)



5.3 Hoeveel weke is daar in 'n jaar? _____

(1)

5.4 Hoeveel ure is in 5 dae? _____

(1)

Vraag 6: Getalsinne

7

a) Daar is 30 handsakke met 5 lipstiffies in elke handsak. Hoeveel lipstiffies is daar altesaam?

(3)

b) Jan spaar R2 235 om n nuwe playstation saam sy boetie, Stephen te koop. Stephen spaar R 3 016. Hoeveel geld moet hulle nog spaar as die playstation R6000 kos?

(4)

Vraag 7: Temperatuur

3

Bestudeer die weerkaart en beantwoord die vrae wat volg:

	Minimum temperatuur	Maksimum temperatuur
Johannesburg	5 °C	23 °C
Bloemfontein	3 °C	19 °C
Kaapstad	12 °C	28 °C

7.1 Watter stad was die koudste? _____ (1)

7.2 Wat was die hoogste temperatuur tussen die 3 stede? _____ (1)

7.3 By hoeveel grade begin water kook? _____ (1)