


Hoenderhok getalkombinasies




Help die hoenders om te besluit watter
kombinasie van eiers hulle in elke hok moet lê.

10	
1	
	9
0	
7	
	5
	2
3	
8	
	4
10	
5	
	6

11	
1	
	9
0	
7	
	5
	2
3	
8	
	4
10	
5	
	11

12	
12	
	9
0	
7	
	5
	2
3	
8	
	4
10	
11	
	6

Hoenderhok getalkombinaties




Help die hoenders om te besluit watter
kombinasie van eiers hulle in elke hok moet lê.

13	
13	
	9
12	
0	
7	
	5
	2
3	
8	
	4
10	
5	
	6
1	
11	

14	
14	
	9
12	
0	
7	
	5
	2
3	
8	
	4
10	
2	
	6
1	
11	
	13

15	
14	
	9
12	
0	
7	
	5
	2
3	
8	
	4
10	
13	
	6
15	
1	
11	
	13

Hoenderhok getalkombinasies




Help die hoenders om te besluit watter
kombinasie van eiers hulle in elke hok moet lê.

16	
13	
16	
	9
12	
0	
7	
	5
	2
3	
8	
	4
10	
5	
	6
	14
1	
11	
	15

17	
14	
	9
	16
12	
0	
7	
	5
	2
3	
8	
	4
10	
14	
	6
1	
11	
	13
	17
15	

18	
14	
	9
	18
12	
0	
7	
	5
	2
3	
8	
	4
10	
13	
	6
15	
1	
11	
	17
	13

Hoenderhok getalkombinasies



Help die hoenders om te besluit watter
kombinasie van eiers hulle in elke hok moet lê.

19	
13	
16	
	9
12	
0	
7	
	5
	2
3	
8	
	4
10	
5	
	6
	14
19	
1	
	18
11	
	15

20	
14	
	9
	16
12	
0	
7	
	5
	2
3	
8	
	4
10	
14	
	6
1	
11	
	13
	17
15	
	20
19	

21	
14	
	9
	18
12	
0	
7	
	5
	2
3	
8	
	4
10	
13	
	6
15	
1	
11	
	17
	13
	21
20	

Hoenderhok getalkombinasies



Help die hoenders om te besluit watter
kombinasie van eiers hulle in elke hok moet lê.

22

13	
16	
	9
12	
0	
7	
	5
	2
3	
8	
	4
10	
5	
	6
	14
19	
1	
	18
11	
	15
	22


23

14	
	9
	16
12	
0	
7	
	5
	2
3	
8	
	4
10	
14	
	6
1	
22	
	13
	17
15	
	20
19	
	23

24

14	
	9
	18
12	
0	
7	
	5
	2
3	
8	
	4
10	
13	
	6
15	
1	
11	
	17
	13
	24
20	

Hoenderhok getalkombinasies



Help die hoenders om te besluit watter
kombinasie van eiers hulle in elke hok moet lê.

25

13	
16	
	9
12	
	24
23	
0	
7	
	5
	2
	25
3	
8	
	4
10	
5	
	6
	14
19	
1	
	18
11	
	15
	22


26

14	
	9
	25
	16
12	
0	
7	
	5
	2
3	
8	
	4
10	
14	
	6
1	
22	
	13
	17
15	
	20
19	
	26
	23

27

14	
	27
	9
	18
12	
0	
7	
	5
	2
3	
8	
	4
10	
13	
	6
15	
1	
11	
	17
	13
	24
20	

Hoenderhok getalkombinasies



Help die hoenders om te besluit watter
kombinasie van eiers hulle in elke hok moet lê.

28

13	
16	
	9
12	
	24
28	
0	
7	
	5
	2
	25
3	
8	
	4
10	
5	
	6
	14
19	
1	
	18
11	
	15
	22

29

14	
	9
	29
	16
12	
0	
7	
	5
	2
3	
8	
	4
10	
14	
	6
1	
22	
	13
	17
15	
	20
19	
	26
	23

30

14	
	27
	9
	18
12	
0	
7	
	5
	2
3	
8	
	4
10	
13	
	6
15	
1	
11	
	17
	13
	24
20	
	30
25	